

Series SKS/1/C

कोड नं. **64/1/3**

Code No.

रोल नं.

Roll No.

--	--	--	--	--	--	--	--

परीक्षार्थी कोड को उत्तर-पुस्तिका के मुख-पृष्ठ पर अवश्य लिखें ।

Candidates must write the Code on the title page of the answer-book.

- कृपया जाँच कर लें कि इस प्रश्न-पत्र में मुद्रित पृष्ठ 8 हैं तथा 2 पृष्ठ मानचित्रों के हैं ।
- प्रश्न-पत्र में दाहिने हाथ की ओर दिए गए कोड नम्बर को छात्र उत्तर-पुस्तिका के मुख-पृष्ठ पर लिखें ।
- कृपया जाँच कर लें कि इस प्रश्न-पत्र में 26 प्रश्न हैं ।
- कृपया प्रश्न का उत्तर लिखना शुरू करने से पहले, प्रश्न का क्रमांक अवश्य लिखें ।
- इस प्रश्न-पत्र को पढ़ने के लिए 15 मिनट का समय दिया गया है । प्रश्न-पत्र का वितरण पूर्वाह्न में 10.15 बजे किया जाएगा । 10.15 बजे से 10.30 बजे तक छात्र केवल प्रश्न-पत्र को पढ़ेंगे और इस अवधि के दौरान वे उत्तर-पुस्तिका पर कोई उत्तर नहीं लिखेंगे ।
- Please check that this question paper contains 8 printed pages and 2 pages of maps.
- Code number given on the right hand side of the question paper should be written on the title page of the answer-book by the candidate.
- Please check that this question paper contains 26 questions.
- **Please write down the Serial Number of the question before attempting it.**
- 15 minutes time has been allotted to read this question paper. The question paper will be distributed at 10.15 a.m. From 10.15 a.m. to 10.30 a.m., the students will read the question paper only and will not write any answer on the answer-book during this period.

भूगोल (सैद्धान्तिक)

GEOGRAPHY (Theory)

निर्धारित समय : 3 घण्टे

Time allowed : 3 hours

अधिकतम अंक : 70

Maximum Marks : 70

सामान्य निर्देश :

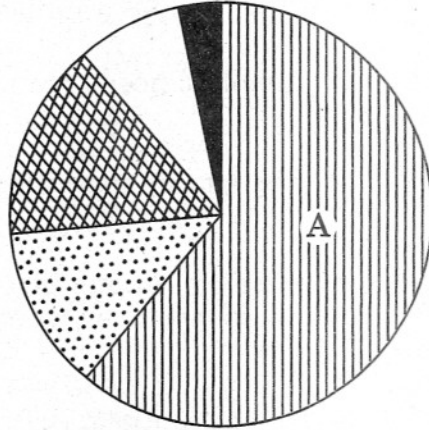
- (i) प्रश्नों की कुल संख्या 26 है ।
- (ii) सभी प्रश्न अनिवार्य हैं ।
- (iii) प्रत्येक प्रश्न के अंक उसके सामने अंकित हैं ।
- (iv) प्रश्न संख्या 1- 10 तक अति लघु-उत्तर वाले प्रश्न हैं । प्रत्येक प्रश्न का 1 अंक है । इनमें से प्रत्येक प्रश्न का उत्तर 20 शब्दों से अधिक का नहीं होना चाहिए ।
- (v) प्रश्न संख्या 11- 20 तक लघु-उत्तर वाले प्रश्न हैं । प्रत्येक प्रश्न के 3 अंक हैं । इनमें से प्रश्न संख्या 20 मूल्य-आधारित है । इनमें से प्रत्येक प्रश्न का उत्तर 80 शब्दों से अधिक का नहीं होना चाहिए ।
- (vi) प्रश्न संख्या 21- 25 तक दीर्घ-उत्तर वाले प्रश्न हैं । प्रत्येक प्रश्न के 5 अंक हैं । इनमें से प्रत्येक प्रश्न का उत्तर 150 शब्दों से अधिक का नहीं होना चाहिए ।
- (vii) प्रश्न संख्या 26 मानचित्रों पर दिए गए भौगोलिक लक्षणों के पहचानने और स्थिति दिखाने एवं नामांकन करने से संबंधित है ।
- (viii) संसार और भारत के दिए गए रेखा-मानचित्रों को अपनी उत्तर-पुस्तिका में अवश्य संलग्न कीजिए ।
- (ix) रेखा-मानचित्र बनाने के लिये साँचों या स्टेंसिलों के प्रयोग की अनुमति दी जाती है ।

General Instructions :

- (i) There are 26 questions in all.
- (ii) All questions are compulsory.
- (iii) Marks for each question are indicated against it.
- (iv) Questions No. 1 - 10 are very short-answer questions carrying 1 mark each. Answer to each of these questions should not exceed 20 words.
- (v) Questions No. 11 - 20 are short-answer questions carrying 3 marks each, out of which Q. No. 20 is a value based question. Answers to each of these questions should not exceed 80 words.
- (vi) Questions No. 21 - 25 are long-answer questions carrying 5 marks each. Answers to each of these questions should not exceed 150 words.
- (vii) Questions No. 26 is related to identification and locating and labelling of geographical features on maps.
- (viii) Outline maps of the World and India provided to you must be attached within your answer-book.
- (ix) Use of templates or stencils for drawing outline maps is allowed.

1. कुत्तों एवं रेंडियरों का उपयोग, बोझा ढोने वाले पशुओं के रूप में किस प्रदेश में किया जाता है ? 1
In which region are dogs and reindeer used as pack animals ?
2. उस 'महामार्ग' का नाम बताइए, जो दक्षिण अमेरिका के देशों को कनाडा से जोड़ता है । 1
Name the 'Highway' which connects the South American countries with Canada.
3. किस आर्थिक क्षेत्रक में उत्पादन और विनिमय दोनों शामिल हैं ? 1
In which economic sector are both production and exchange included ?
4. किस प्रकार की बस्तियाँ, अपनी आधारभूत आर्थिक आवश्यकताओं की पूर्ति मुख्यतः द्वितीयक और तृतीयक क्रियाकलापों से करती हैं ? 1
Which type of settlements derive their basic economic needs mainly from secondary and tertiary activities ?
5. स्वतंत्रता के बाद भारत में सड़कों की दशाएँ सुधारने के लिए कौन-सी सड़क योजना प्रारम्भ की गई ? 1
Which road plan was introduced to improve the conditions of roads in India after independence ?
6. 'शहरी धूम-कुहरा' बनने का मुख्य कारण क्या है ? 1
What is the main cause of formation of 'urban smog' ?
7. धात्विक खनिजों को दो वर्गों में वर्गीकृत कीजिए । $\frac{1}{2} + \frac{1}{2} = 1$
Classify metallic minerals into two categories.
8. परिवहन के सभी रूपों को संचार के पथ क्यों कहा गया है ? 1
Why were all forms of transport referred to as lines of communication ?
9. संसार में सबसे अधिक और सबसे कम लिंग अनुपात वाले देशों के नाम बताइए । $\frac{1}{2} + \frac{1}{2} = 1$
Name the countries having the highest and the lowest sex ratio in the world.
10. दक्षिण-एशिया के उन दो अर्थशास्त्रियों के नाम बताइए, जिन्होंने 'मानव विकास रिपोर्ट' पर साथ-साथ काम किया है । $\frac{1}{2} + \frac{1}{2} = 1$
Name the two South-Asian economists, who have worked together on 'Human Development Report'.

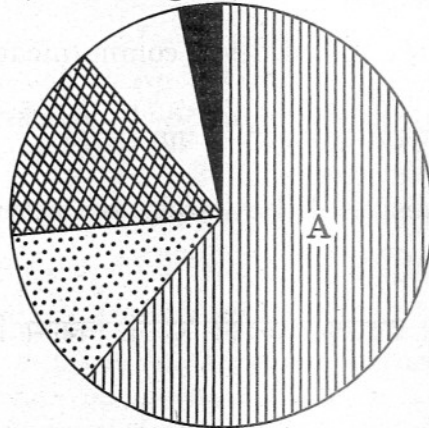
11. शक्ति के साधनों और श्रम की आपूर्ति तक अभिगम्यता किस प्रकार संसार में औद्योगिक अवस्थिति को प्रभावित करती है ? तीन उदाहरणों सहित स्पष्ट कीजिए । $3 \times 1 = 3$
How does access to sources of energy and labour supply influence industrial location in the world ? Explain with three examples.
12. संसार के विकसित और विकासशील देशों के बीच सड़कों की गुणवत्ता में बहुत अन्तर क्यों पाया जाता है ? कोई तीन कारण स्पष्ट कीजिए । $3 \times 1 = 3$
Why does quality of roads vary greatly between developed and developing countries of the world ? Explain any three reasons.
13. 2001 जनगणना के अनुसार, भारत के वर्गानुसार नगरीय जनसंख्या के वितरण को दिखाने वाले आरेख का अध्ययन कीजिए और उसके नीचे दिए गए प्रश्नों के उत्तर दीजिए : $1 + 2 = 3$



(13.1) आरेख में 'A' द्वारा प्रदर्शित नगर के वर्ग की पहचान कीजिए और उसका नाम लिखिए ।

(13.2) उस प्रकार के नगरों की कोई चार विशेषताएँ लिखिए ।

Study the diagram showing the classwise distribution of urban population of India, according to 2001 census and answer the questions that follow :



(13.1) Identify and label the class of city as shown by 'A' in the diagram.

(13.2) Mention any four characteristics of such type of cities.

नोट : निम्नलिखित प्रश्न केवल दृष्टिहीन परीक्षार्थियों के लिए प्रश्न संख्या 13 के स्थान पर है :

Note : The following question is for the **Blind Candidates** only, in lieu of Q. No. 13:

- भारत के तृतीय वर्ग के नगरों की किन्हीं तीन विशेषताओं को स्पष्ट कीजिए । 3×1=3
Explain any three features of class third cities of India.
14. “संसार भर में आर्थिक विकास और जनसंख्या वृद्धि में ऋणात्मक सहसम्बन्ध पाया जाता है ।” इस कथन की उदाहरणों सहित पुष्टि कीजिए । 3×1=3
“There is a negative correlation between economic development and population growth throughout the world.” Support this statement with examples.
15. सौर ऊर्जा का उपयोग किस प्रकार किया जाता है ? सौर ऊर्जा के किन्हीं दो लाभों की व्याख्या कीजिए । 1+2=3
How is solar energy tapped ? Explain any two advantages of solar energy.
16. भारत में ‘सड़क घनत्व’ में बहुत बड़ा अन्तर क्यों है ? किन्हीं तीन कारणों को उदाहरणों सहित स्पष्ट कीजिए । 3×1=3
Why is there a great variation in ‘road density’ in India ? Explain any three reasons with examples.
17. आधुनिक कृषि में विभिन्न प्रकार के रासायनों का उपयोग भारत में किस प्रकार जल को प्रदूषित करता है ? स्पष्ट कीजिए । 3
How do various types of chemicals used in modern agriculture create water pollution in India ? Explain.
18. स्वतंत्रता के तुरन्त बाद खाद्यान्नों के उत्पादन में वृद्धि के लिए सरकार द्वारा अपनाई गई, विकास की तीन रणनीतियों की परख कीजिए । 3×1=3
Examine the three strategies of development adopted by the government to increase foodgrains production just after independence.
19. स्वतंत्रता के बाद भारत के विदेशी व्यापार में तीव्र वृद्धि के किन्हीं तीन कारणों को स्पष्ट कीजिए । 3×1=3
Explain any three reasons for the sharp rise in overseas trade of India, after independence.

20. "प्रकृति और मानव एक-दूसरे से जटिलतापूर्वक गुँथे हुए हैं।" इस सम्बन्ध को बनाए रखने के लिए किन मानव मूल्यों की आवश्यकता है ? स्पष्ट कीजिए। 3×1=3

"Nature and humans are intricately intertwined." What human values are required to sustain this relationship ? Explain.

21. उदाहरणों सहित स्पष्ट कीजिए कि 'अन्तर्राष्ट्रीय व्यापार' देशों के लिए किस प्रकार हानिकारक हो सकता है। 5×1=5

Explain with examples how 'International Trade' can be detrimental to nations.

22. निर्वाह कृषि क्या है ? संसार में प्रचलित गहन निर्वाह कृषि की किन्हीं चार विशेषताओं का वर्णन कीजिए। 1+4=5

What is subsistence agriculture ? Describe any four salient features of intensive subsistence agriculture practised in the world.

23. यथोचित दीर्घ और स्वस्थ जीवन व्यतीत करने के लिए आवश्यक किन्हीं पाँच महत्त्वपूर्ण उपायों की व्याख्या कीजिए। 5×1=5

Explain any five important measures necessary for leading a healthy and reasonably long life.

24. 'समन्वित जनजातीय विकास परियोजना' ने भरमौर क्षेत्र के विकास में किस प्रकार मदद की है ? पाँच उदाहरणों सहित स्पष्ट कीजिए। 5×1=5

How has the 'Integrated Tribal Development Project' helped in the development of Bharmaur Region ? Explain with five examples.

25. संसार के विकासशील देशों की ग्रामीण बस्तियों की किन्हीं पाँच प्रमुख समस्याओं की व्याख्या कीजिए। 5×1=

Explain any five major problems of rural settlements in the developing countries of the world.

26. (26.1) चार लक्षण A, B, C और D संसार के दिए गए राजनीतिक रेखा-मानचित्र (पृष्ठ 9 पर) में अंकित किए गए हैं। नीचे दी गई जानकारी की मदद से इन लक्षणों की पहचान कीजिए और उनके सही नाम मानचित्र में अंकित रेखाओं पर लिखिए : $4 \times \frac{1}{2} = 2$

- A. मानव विकास सूचकांक 2003 में न्यूनतम मूल्य वाला देश
- B. एशिया में सर्वाधिक जनसंख्या वृद्धि दर वाला देश
- C. एक प्रमुख समुद्री-पत्तन
- D. एक मेगासिटी

(26.2) भारत के दिए गए राजनीतिक रेखा-मानचित्र (पृष्ठ 11 पर) में निम्नलिखित लक्षणों को उपयुक्त चिह्नों से दर्शाइए और उनके नाम लिखिए : $3 \times 1 = 3$

- (i) ग्रामीण जनसंख्या का सर्वाधिक प्रतिशत वाला राज्य
- (ii) मक्का के उत्पादन में अग्रणी उत्पादक राज्य
- (iii) 'ईस्ट कोस्ट रेल मण्डल' का मुख्यालय

(26.1) Four features A, B, C and D are marked in the given political outline map of the **World** (on page 9). Identify these features with the help of the following information and write their correct names on the lines marked in the map :

- A. The country having the lowest rank in the Human Development Index in 2003
- B. The country having the highest growth rate of population in Asia
- C. A major sea-port
- D. A Megacity

(26.2) In the given political outline map of **India** (on page 11), locate and label the following features with appropriate symbols.

- (i) The state having the highest percent of rural population
- (ii) The leading maize producing state
- (iii) The headquarter of 'East Coast Railway Zone'

नोट : निम्नलिखित प्रश्न केवल दृष्टिहीन परीक्षार्थियों के लिए प्रश्न संख्या 26 के स्थान पर हैं :

Note : The following questions are for the **Blind Candidates** only, in lieu of Q. No. 26 :

(26.1) संसार में 2003 में किस देश का 'मानव विकास सूचाकांक' सबसे कम था ?

(26.2) एशिया में सबसे अधिक जनसंख्या वृद्धि दर वाले देश का नाम बताइए ।

(26.3) भारत में ग्रामीण जनसंख्या के सर्वाधिक प्रतिशत वाला राज्य कौन-सा है ?

(26.4) मक्का के उत्पादन में भारत के अग्रणी राज्य का नाम बताइए ।

(26.5) भारत के 'ईस्ट कोस्ट रेल मण्डल' का मुख्यालय कौन-सा है ?

5×1=5

(26.1) Which country had the lowest rank in the 'Human Development Index' in 2003 in the world ?

(26.2) Name the country which has the highest growth rate of population in Asia.

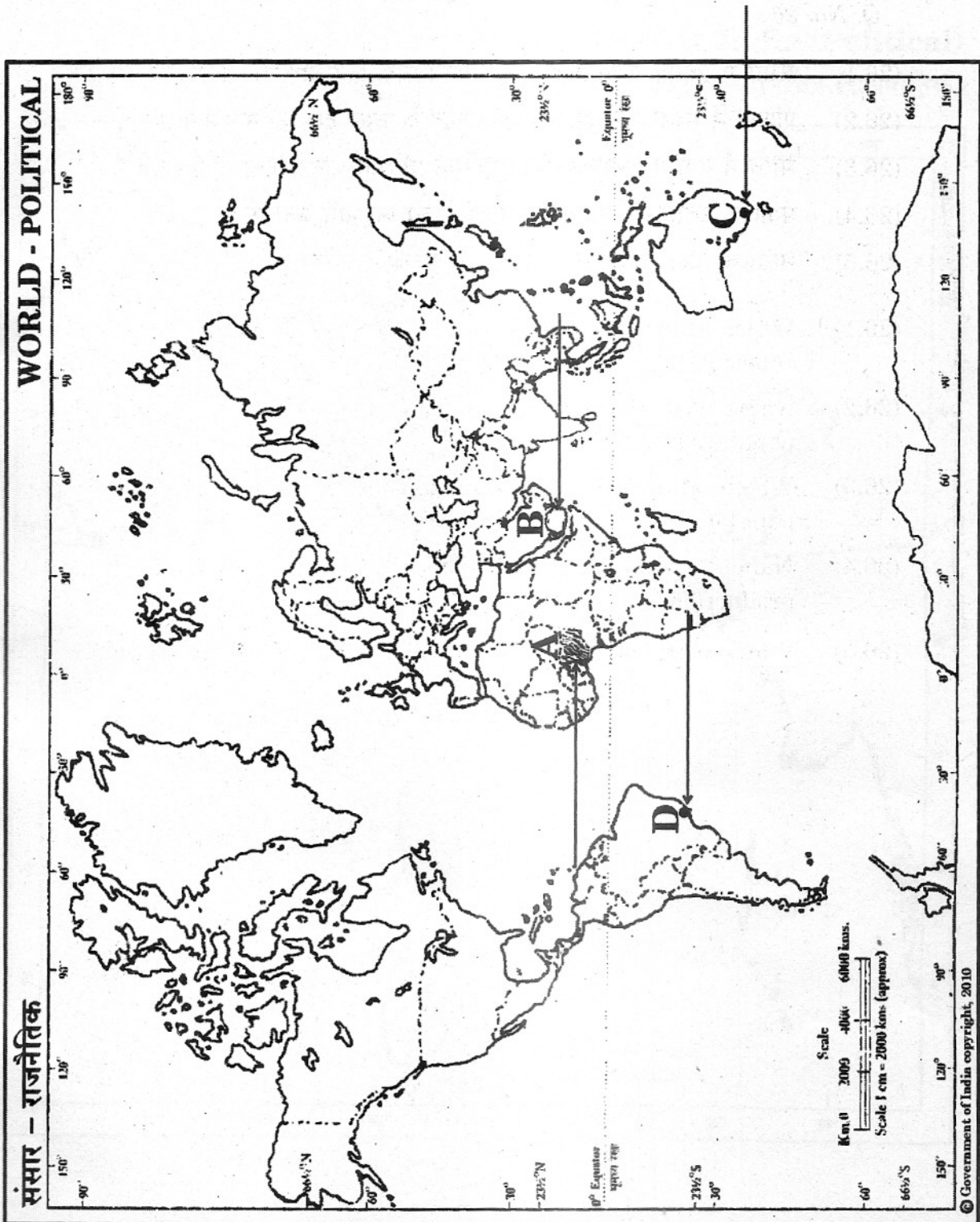
(26.3) Which state of India has the highest percentage of rural population ?

(26.4) Name the state of India which is the leading producer in maize production.

(26.5) Which is the headquarter East Coast Railway Zone of India ?

For question no. 26.1

प्रश्न सं. 26.1 के लिए



For question no. 26.2

प्रश्न सं. 26.2 के लिए

Outline Map of India (Political)

भारत का रेखा-मानचित्र (राजनीतिक)

