



**Series : RQ3SP**

**SET~4**

**Q.P. Code 25**

Roll No.

--	--	--	--	--	--	--	--

Candidates must write the Q.P. Code on the title page of the answer-book.



**සිංහල**  
**LIMBOO**



සේ: ප්‍රථම 5

Time allowed : 3 hours

මුළු ලකුණු - 100

Maximum Marks : 80

- ♦ ප්‍රශ්නපත්‍රයේ 13 පිටුවන් ඇත. එය පරීක්ෂා කර බලන්න.
- ♦ ප්‍රශ්නපත්‍රයේ 16 ප්‍රශ්න, එයින් සෑම ප්‍රශ්නයක්ම විස්තර කර ඇත.
- ♦ විචාරය (පරීක්ෂණ) සඳහා ප්‍රශ්නපත්‍රයේ ඇති සෑම ප්‍රශ්නයක්ම විස්තර කර ඇත.
- ♦ විචාරය සඳහා ප්‍රශ්නපත්‍රයේ ඇති සෑම ප්‍රශ්නයක්ම විස්තර කර ඇත.
- ♦ ප්‍රශ්නපත්‍රයේ ඇති සෑම ප්‍රශ්නයක්ම විස්තර කර ඇත.

**NOTE :**

- (I) Please check that this question paper contains **13** printed pages.
- (II) Q.P. Code given on the right hand side of the question paper should be written on the title page of the answer-book by the candidate.
- (III) Please check that this question paper contains **16** questions.
- (IV) **Please write down the Serial Number of the question in the answer-book at the given place before attempting it.**
- (V) 15 minute time has been allotted to read this question paper. The question paper will be distributed at 10.15 a.m. From 10.15 a.m. to 10.30 a.m., the candidates will read the question paper only and will not write any answer on the answer-book during this period.



**General Instructions :**

Question paper is divided into **2 (two)** sections.

It has total **16** questions.

**Part A :** 5 questions no. 1 to 5.

**Part B :** 11 questions no. 6 to 16.

Attempt questions as per specific instructions.

Write question no. in answer-book before attempting it.

ସ୍ନେହପୂର୍ଣ୍ଣ ସ୍ବାଗତ,  
୧୫ ଗ୍ରହଣୀୟ ଉତ୍ତର ଦେବା ପାଇଁ ୫ ଗ୍ରହଣୀୟ ସେକ୍ସ  
ଏବଂ '୧' ଶ୍ରେଣୀ ୬ - ୧୧ ଉତ୍ତର ଗ୍ରହଣୀୟ ସେକ୍ସ  
ଏବଂ '୧' ଶ୍ରେଣୀ ୧ - ୧୧ ଉତ୍ତର ଗ୍ରହଣୀୟ ସେକ୍ସ ॥



Part – A

1. සිතියම. පහි ගාලුපලිඳු දිනිදි නිපද, ගාලු, (ප්‍රධානුභව)

5 x 1 = 5

I.	'ධංපු' වී. ගුලිනි පිහිටා ගිනුමේ හා ධාතුව ! A. ධංපු B. ධංපු C. ධංපු D. ධංපු	1
II.	'සිංහ, දිගු, පුංචි' සිතියම සඳහා පිහිටා ගිනුම ! A. දිගු B. පුංචි C. පුංචි D. පුංචි	1
III.	'සිංහ දිගු' සිතියම සඳහා පිහිටා ගිනුම ! A. සිංහ දිගු B. සිංහ දිගු C. සිංහ දිගු D. සිංහ දිගු	1
IV.	ගු. ධාතුව සිතියම සඳහා පිහිටා ගිනුම ! A. පිංචි B. පිංචි C. පිංචි D. පිංචි	1



V.	<p>කිංචි දුර්වලතම වන විටදී කුමන වර්ගයකට අයත් වේ ?</p> <p>මි. + 10 =</p> <p>A. මි. + 10</p> <p>B. මි. + 10</p> <p>C. මි. + 10</p> <p>D. මි. + 10</p>	1
VI.	<p>'විද්වත්' ගුණයක් කුමන වර්ගයකට අයත් වේ ?</p> <p>A. විද්වත්</p> <p>B. විද්වත්</p> <p>C. විද්වත්</p> <p>D. විද්වත්</p>	1
VII.	<p>විද්වත් වර්ගයකට අයත් වේ ?</p> <p>A. විද්වත්</p> <p>B. විද්වත්</p> <p>C. විද්වත්</p> <p>D. විද්වත්</p>	1

2. වර්ගයකට අයත් වන විටදී කුමන වර්ගයකට අයත් වේ ? (විද්වත් ගුණය)

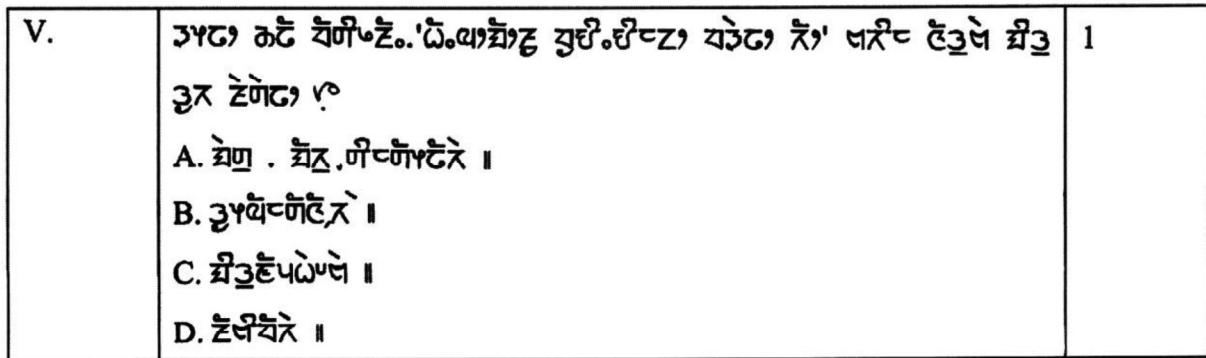
4 x 1 = 4

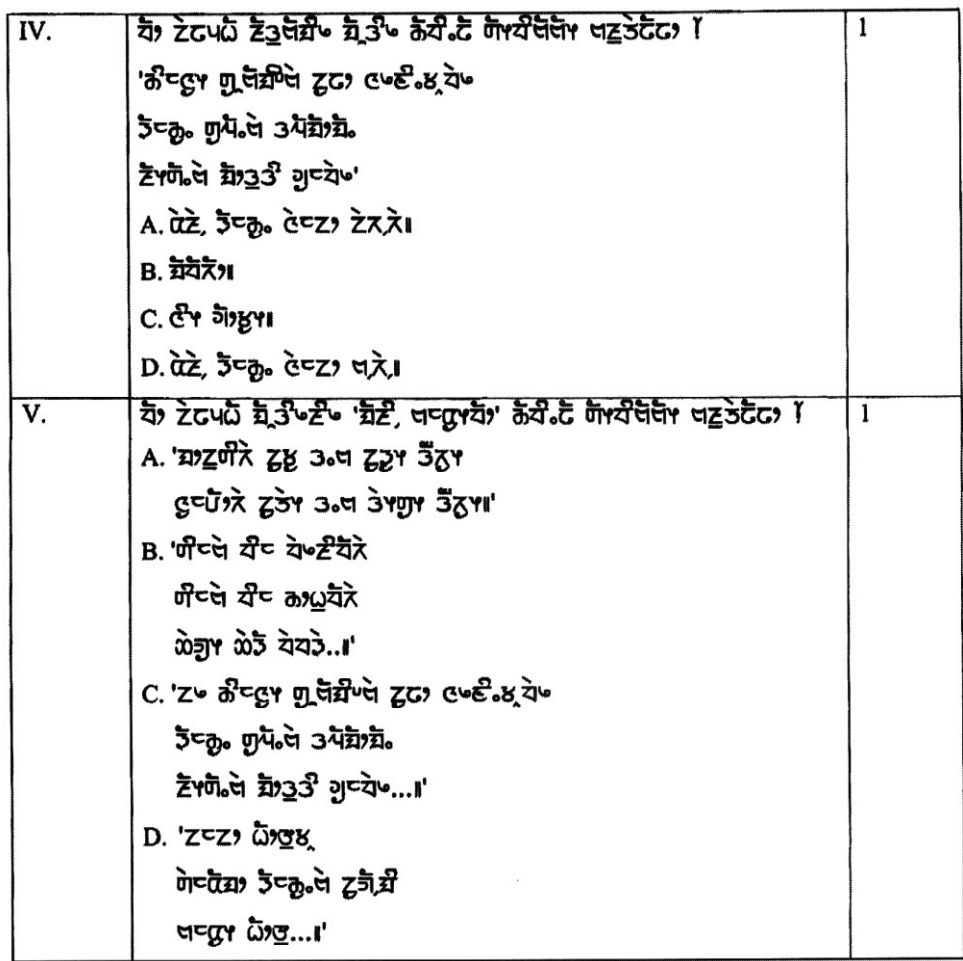
I.	<p>විද්වත් වර්ගයකට අයත් වේ ?</p> <p>A. විද්වත්</p> <p>B. විද්වත්</p> <p>C. විද්වත්</p> <p>D. විද්වත්</p>	1
----	--	---



II.	<p>'භාණ්ඩාගාර' නමින් හඳුන්වනු ලබන පොතේ නම කුමක් වේ?</p> <p>A. සිංහල පොතක් වේ.</p> <p>B. සිංහල පොතක් වේ.</p> <p>C. සිංහල පොතක් වේ.</p> <p>D. සිංහල පොතක් වේ.</p>	1
III.	<p>'භාණ්ඩාගාර' නමින් හඳුන්වනු ලබන පොතේ නම කුමක් වේ?</p> <p>A. සිංහල පොතක් වේ.</p> <p>B. සිංහල පොතක් වේ.</p> <p>C. සිංහල පොතක් වේ.</p> <p>D. සිංහල පොතක් වේ.</p>	1
IV.	<p>'භාණ්ඩාගාර' නමින් හඳුන්වනු ලබන පොතේ නම කුමක් වේ?</p> <p>A. සිංහල පොතක් වේ.</p> <p>B. සිංහල පොතක් වේ.</p> <p>C. සිංහල පොතක් වේ.</p> <p>D. සිංහල පොතක් වේ.</p>	1
V.	<p>'භාණ්ඩාගාර' නමින් හඳුන්වනු ලබන පොතේ නම කුමක් වේ?</p> <p>A. සිංහල පොතක් වේ.</p> <p>B. සිංහල පොතක් වේ.</p> <p>C. සිංහල පොතක් වේ.</p> <p>D. සිංහල පොතක් වේ.</p>	1



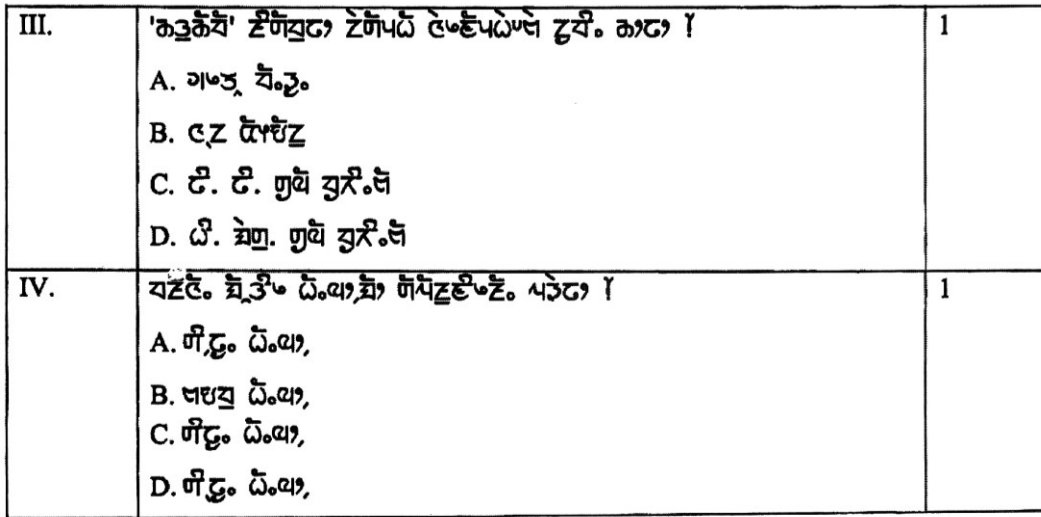

$$4 \times 1 = 4$$
25 []



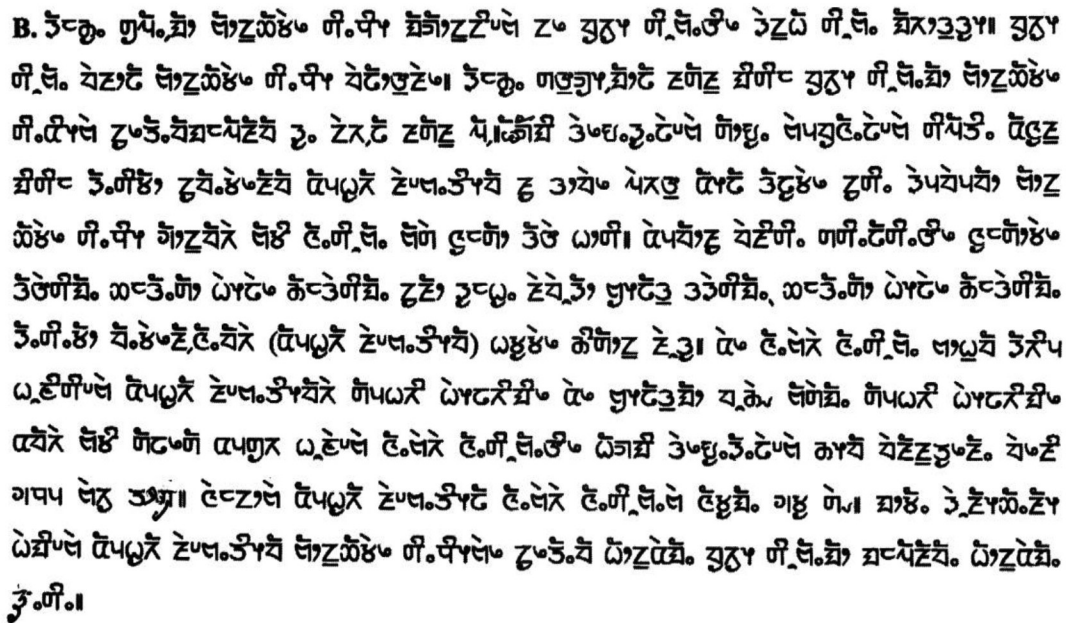
**3 x 1 = 3**

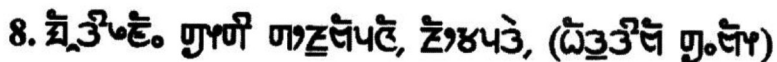
[illegible]





**60 Marks**

[illegible][illegible]

[illegible]

II. "ਤੋਧਟੇਕੇ ਵੀਧੁ ਤੇਧੁਧੁਧੁਧੁ ਧੀਨੋਧੇ"

[illegible]

III. ચૌ, ટેલપદો ઘટ્ટાઈ શૂંત્રો ક્યો. ટેલપદો, ઉત્તર કાથ. ઘટ્ટાઈ.

'ඔ...ඒ...ච්ඡේ වෙද මුණිවි. ඔහුණිවි. උපදි චිත්තකිතට ඔහු. චිත්තවෙද්දි උපදි කි  
ඒකපුරිච්ඡේ. ඔහු ඔහුණිවි.'

**IV. རྩུག་ བོན་མི་ གྲངས་དང་ དཔྱད་བློ་ ལེ་རྒྱུ་ཡི་ འཕྲུལ་ ཡལ་།**

V. ଡେଇଁପାରିବେ ନାହିଁ, ଏହାକୁ ଶୁଦ୍ଧ କରିବା ପାଇଁ ଶୁଦ୍ଧ କରିବା ପାଇଁ ।

9. ચં, ટેપઈ જાજીપઈ, ટેજપટે, (જામીં જી.જી.)।

I. 'ਘੋਸ਼ਣਾਵਾਰੀ' ਦੇ ਨਾਂ 'ਤੇ, ਕੰਪਨੀ ਨੂੰ ਫੌਜੀ ਸੇਵਾ ਦੇ (1)

II 'ସିଂହ' ଗାୟିକ ଶୈଳୀର ଗାୟକଙ୍କ ଦ୍ଵୟ. କାହା ? (1)

III. . ସା, ଟେପିଂ ଶାସିଚି ଧଢ଼ି, ଶାସିଚି କା, ଘିସି ଟି, ଟ୍ରାଫିକ୍, ଟି

'ਅੰਬ. ਬੰਦੀ, ਪ੍ਰਾਚੀ, ਫੁਲ. ਸੁ.ਪੰ. ਬੇਕੰਡੇ

કાંઈ. ઘેટે પૂજારી, બેગીની બેચીઠ ચેલેઉટ્ટે'। (૧)

[illegible]

2. "ਭੂਈਂ, ਭੰਗਾਖੇ ਭੰਡੇ ਘੋਟੇਭੰਡੇ।

දුප්පුපත් කේප්පුප වැරැදි.

“કેવળાને કેવલ્યુ ઘેરુડેશ.”

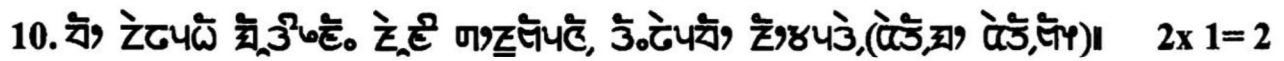
੫. 'ਬਿਓਝ, ਘੋੜ, ਪੀੜੀਝ ਤੇ ਟੋਭਾਟੀ ਘੋੜ।

[illegible]

**ဇွဲၤတီၢ် နီၣ်န့ၣ်၊ နီၣ်န့ၣ်နီၣ်န့ၣ်**

ਤੰਬਾ, ਟੂਹਾ, ਬੇ.ਏਪਬੰਧੇ ਘੋਣ, ਟੂ ਘਾਟ ਟੋਟਾ, ਟੂ

‘**ઝેલુલ, ઝેલુલ ઝેલુલ. ચંદ્રેશી ૭ ગાંધીઝેલુલ બાઈ**’



## II. ଟେବୁଲ୍ କାଟିଂ. ଓପେନ ଘର

[illegible]

26 ಕೆ.ಆರ್. ನಗರ. 26ನೇ ಮೇ. 2019. 26ನೇ ಕೆ.ಆರ್. ನಗರ. 26ನೇ ಮೇ. 2019.

11. ચૌ ટેકપલ ધૂનિયલે. ટૂંકી ૧૧૫૫૫૫, ટૂંકપડે, (ઢેડ, ઢેડ, ઢેડ, ઢેડ) 2 x 2 = 4

[illegible]

II. གེལ་ཅོང་ རྒྱུ ཡའོ རྩལ་ལྷོ, རྒྱུ, ཀ, གེལ་ཅོང་ ཡའོ

III. ନିମ୍ନଲିଖିତ ଶ୍ରୀମତୀଙ୍କୁ ଶ୍ରୀ ଡିପାର୍ଟମେଣ୍ଟ ଅଫ୍ ହାଉସିଂ, କାନ୍ସଟ୍ରକ୍ସନ୍ ଓ ସିଟି ପ୍ଲାନିଂ, ଗାନ୍ଧୀ ନଗର, କଟକରେ ଡିପୁଟି ସିଟି ମ୍ୟେୟରଙ୍କ ଭାବେ ନିଯୁକ୍ତ କରାଯାଇଥିବା କାର୍ଯ୍ୟକ୍ରମ ଉପରେ ନିମ୍ନଲିଖିତ ପଦକ୍ଷେପ ଗ୍ରହଣ କରାଯାଇଥିଲା:

12. වෘත්තයේ භ්‍රමකයේ ස්ථිතික බලය, කුඩා වීමට හේතු වන්නේ, (සැලකිය යුතුයි)। 3 x 1 = 3

I. ଟଙ୍କାଏ. ଟ ବଢ଼ିଲେନି ଟ୍ରାସ୍‌ସି ଟ୍ରାସ୍‌ସି ଟ୍ରାସ୍‌ସି. ଏଠା

[illegible]

III. ସଞ୍ଚିତ କାର୍ଯ୍ୟ ଟୁଟାଏ ଟିଏ ଓଡ଼ିଆ ସଞ୍ଚିତ କାର୍ଯ୍ୟ

13. වං ටෙට්ට් ඩිට්ට්. ඩිට් ආඥාපට්, ණ්ණප්, (ඔට්ට්ට්ට්)। 2 x 2 = 4

I. ಕಾಣಿ. ಹತ್ತಿಕೆವೆ ದಿಗ್ಗವರಾಣಿ ನೆಕ್ಕ. ಗ್ರಾ.ಕೆ. ದಿಗ್ಗವರಾಣಿ. ಬೆಳವೆ ಗ್ರಾ.ಕೆ.ಯ

II. **දුෂ්ප්‍රකාරය.** 'කුප්‍ය' වාග්‍යයෙන්

### III. ප්‍රභව, ප්‍රභූ දේවත්වය සහ, වර්ධනය!

## ਬੀ 3 ਛਪੜਾ



6

ਤੰਦਰੁਸ਼ਤੀ। ਸੰਪੰਨਤਾ ਦੁਰਦਰਸ਼ੀ॥

**OR**

ક્રિષ્ણને ગાંધી, ૬ સપ્ટેમ્બર,

16. ਬ੍ਰਿਤਾਂਤ. ਏਏ ਤੇਰਾ. ਗਾਠੇਏ, ਤੇਰਾ ਗਾਠੇ,

$$2 \times 2 = 4$$